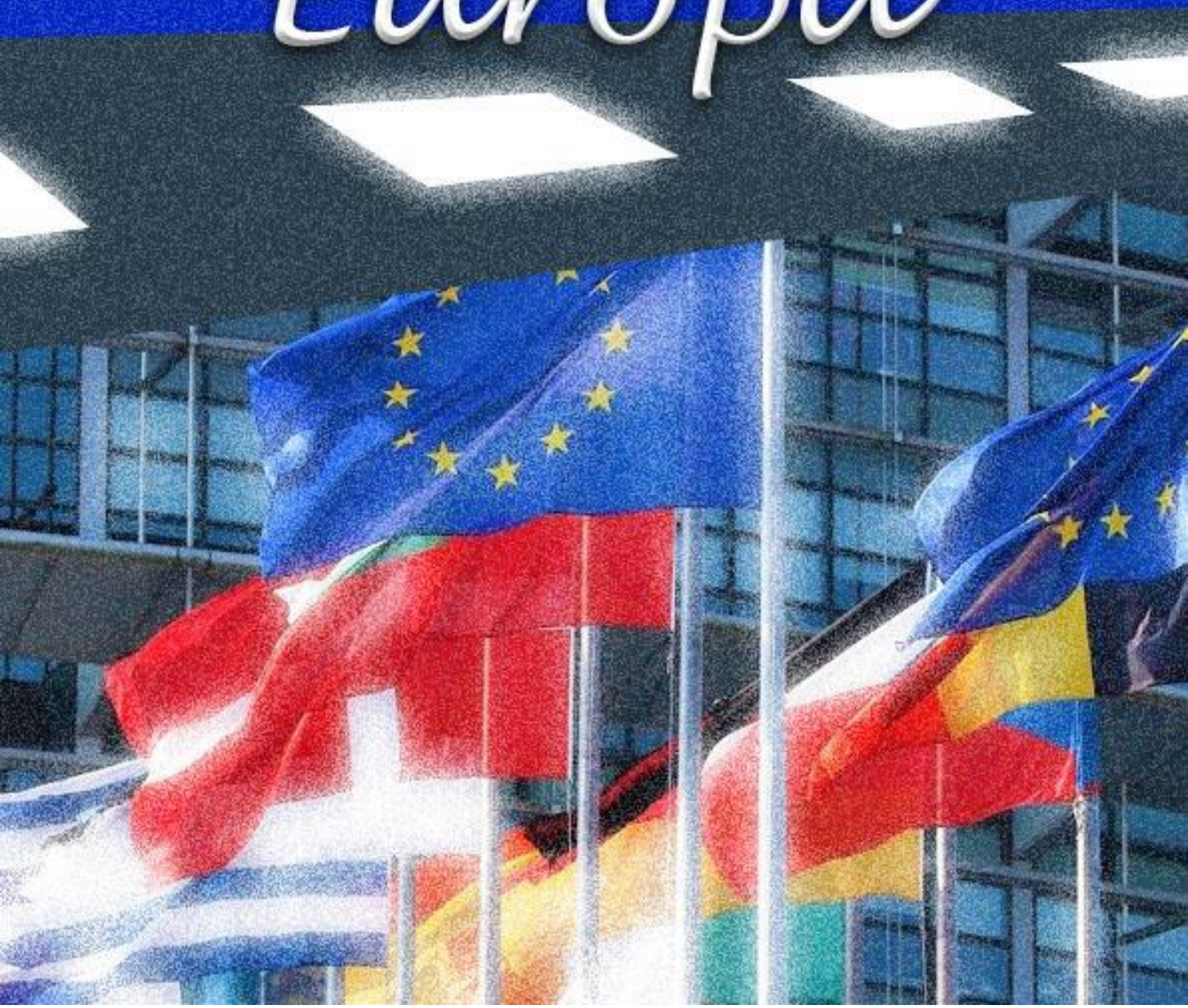


A stylized map of Europe in light blue is centered in the upper half of the image. It is surrounded by twelve yellow five-pointed stars, arranged in a circle like the flag of the European Union. The background is a solid dark blue.

Viaggio in Europa



FESTA DELL'UNIONE EUROPEA

La Festa dell'Europa si celebra il 9 maggio di ogni anno perché in questa data **Robert Schuman**, padre fondatore dell'Unione, presentò il piano di cooperazione considerato l'avvio del processo d'integrazione europea.

9 MAGGIO
Festa dell'Europa

Quanti sono gli stati Europei?

- prima cifra
 $8 \times 2 : 4$

- seconda cifra
 $(6 + 12) : 2$
Gli stati europei sono:



Europe

L'EURASIA

E	U	R	O	P	A	B	M	O	G
T	O	C	M	P	C	L	A	E	V
N	S	Q	A	I	S	A	R	U	E
E	U	G	G	S	T	S	E	L	S
N	D	O	R	F	E	G	I	F	Q
I	R	V	C	A	C	C	A	L	P
T	P	E	Q	E	M	E	O	M	D
N	S	S	C	U	A	C	P	L	U
O	I	T	D	R	O	N	S	T	O
C	L	C	A	M	U	D	I	Q	P

PAROLE DA TROVARE:

- Europa
- Continente
- Nord
- Ovest
- Oceani
- Placca
- Eurasia
- Est
- Sud

INNO ALLA GIOIA

L'inno adottato dall'UE è L'inno alla gioia.

L'inno è la parte finale della nona sinfonia, è suonato però senza parole, affinché sia il linguaggio universale della musica a esprimere gli ideali di libertà e pace perseguiti dall'Europa.

L'inno è stato composto da...

☐ Wolfgang Amadeus Mozart

☐ Antonio Vivaldi

☐ Ludwig Van Beethoven



UNIONE EUROPEA (UE) è un'unione politica ed economica, a carattere sovranazionale e comprende 27 stati

TROVA GLI INTRUSI

Austria, Andorra, Belgio, Bulgaria, Albania, Cipro, Croazia, Danimarca, Estonia, Finlandia, Francia, Germania, Grecia, Georgia, Irlanda, Islanda, Italia, Lettonia, Inghilterra, Lituania, Lussemburgo, Malta, Paesi Bassi, Polonia, Portogallo, Repubblica Ceca, Armenia, Romania, Slovacchia, Moldova, Slovenia, Spagna, Svezia e Ungheria.

Gli organi dell'Unione Europea hanno sede in diverse città
(Strasburgo, Lussemburgo e Bruxelles)

Parlamento Europeo, Consiglio dell'Unione Europea, Consiglio Europeo, Commissione Europea e Banca Centrale.

Data la definizione, scrivi il termine specifico.

Il Parlamento Europeo- il Consiglio dell'Unione Europea-il Consiglio Europeo-la Commissione Europea-la Banca Centrale Europea.

	Organismo dell'UE che ha il potere di approvare le leggi.
	Organismo dell'UE che ha potere esecutivo, formati da 27 membri.
	Principale organo decisionale formato da ministri degli stati membri competenti in una certa materia.
	Organismo dell'UE che decide la politica monetaria.
	Formato da capi di Stato o di Governo degli stati membri dell'UE.

Parlamento Europeo
Commissione Europea
Consiglio dell'Unione Europea
Banca Centrale Europea
Consiglio Europeo

Gli Stati Europei



Che cos'è uno Stato?

È un territorio formato da:

• Confini



• Popolo



• Forma di governo



Ogni Stato ha:

- una **capitale** sede degli organi più importanti
- un **ministero degli esteri** per i rapporti con gli altri Stati

IMPARIAMO GIOCANDO!

O	T	A	T	S	M	L	L	S	G	O	C
O	S	N	K	A	O	D	E	I	I	G	O
D	T	R	O	S	N	M	G	G	U	H	S
D	O	E	V	B	A	L	I	R	D	K	T
I	H	P	I	X	R	S	S	Y	I	E	I
T	U	U	T	G	C	R	L	P	Z	W	T
T	S	B	U	E	H	N	A	E	I	U	U
A	C	B	C	L	I	S	T	N	A	V	Z
T	H	L	E	T	A	H	I	Z	R	J	I
U	I	I	S	F	B	A	V	U	I	E	O
R	R	C	E	W	O	B	O	F	O	C	N
A	C	A	F	E	D	E	R	A	L	E	E

PAROLE DA CERCARE:

DITTATURA; REPUBBLICA; ESECUTIVO; MONARCHIA; LEGISLATIVO;
COSTITUZIONE; GIUDIZIARIO; FEDERALE; STATO.

SVEZIA

SEGNA CON UNA (X) LE INFORMAZIONI CORRETE

1) QUAL È LA BANDIERA DELLA SVEZIA

a)



b)



c)



2) CON CHI CONFINA LA SVEZIA E QUAL È LA CAPITALE?

a) (confini) nord-est Finlandia, ovest Norvegia, sud Danimarca, ovest Norvegia

b) (confini) nord Mar Glaciale Artico, ovest Mare di Norvegia, sud Mar del Nord, est Svezia

c) (capitale) Stoccolma

d) (capitale) Riga

Le Repubbliche Baltiche



Segna con una x le informazioni giuste:

1) Quali sono gli stati che compongono le Repubbliche Baltiche

- a. Finlandia e Svezia
- b. Norvegia, Svezia e Danimarca
- c. Islanda, Lettonia e Lituania

3) La capitale della Lettonia è:

- a. Riga
- b. Helsinki
- c. Vilnius
- d. Copenhagen

2) La capitale dell'Estonia è:

- a. Riga
- b. Tallinn
- c. Vilnius
- d. Roma

4) La capitale della Lituania è:

- a. Vilnius
- b. Stoccolma
- c. Riga
- d. Reykjavik



Di quale stato è questa bandiera

- a) Danimarca
- b) Francia
- c) Norvegia

Quante regioni ci sono in Norvegia?

- a) 11
- b) 48
- c) 12

Con quale stato confina la Norvegia a sud?

- a) Bielorussia
- b) Mare del nord
- c) Africa

Qual è lo sport più praticato?

- a) sci
- b) calcio
- c) tennis

L'Islanda

1) COLLEGA LE IMMAGINI AI LORO RISPETTIVI NOMI



a) eruzioni vulcaniche

b) aurora boreale

c) geyser

2) QUAL È IL SETTORE PIÙ SVILUPPATO?

a) settore primario

b) settore secondario

c) settore terziario

3) QUAL È LA CAPITALE DELL'ISLANDA?

a) Stoccolma

b) Oslo

c) Reykjavik

d) Tallinn

4) QUAL È LA RELIGIONE PIÙ DIFFUSA IN ISLANDA?

a) protestante

b) islamica

c) cattolica



LE REGIONI SCANDINAVE E BALTICHE

L'Europa scandinava è una vasta area dell'estremità settentrionale dell'Europa

Quali sono gli stati delle regioni Scandinave e Baltiche?

F	X	P	L	R	D	H	I	H	T	D	Y
R	I	T	A	I	N	O	T	S	E	A	V
V	K	N	T	P	B	J	X	W	N	N	U
H	D	A	L	O	S	S	F	F	O	I	D
E	O	A	E	A	O	Z	H	G	R	M	I
W	Q	I	E	I	N	A	W	G	V	A	D
A	A	N	U	N	I	D	O	L	E	R	S
I	U	A	B	P	I	S	I	G	G	C	Y
Z	P	U	B	A	L	R	P	A	I	A	B
E	G	T	N	C	S	E	S	D	A	R	J
V	Y	I	D	E	Q	E	D	A	N	F	S
S	Z	L	E	A	D	N	A	L	S	I	K

Curiosità:

A queste latitudini le giornate in estate sono lunghissime in inverno invece sono brevissime. Al Circolo Polare Artico nei giorni del solstizio estivo il sole non scende mai sotto l'orizzonte (sole di mezzanotte), viceversa al solstizio di inverno il sole non sorge (24 ore di notte polare)



territorio:

Il territorio è formato da un'estesa piattaforma della **Scudo Baltico**.

Le montagne principali sono le **Alpi Scandinave**. Le pianure più estese si trovano in:

- Danimarca
- sud della Svezia
- Finlandia

L'**Islanda** occupa un'area geologicamente **giovane** ed è in continua attività **sismica** e **vulcanica**

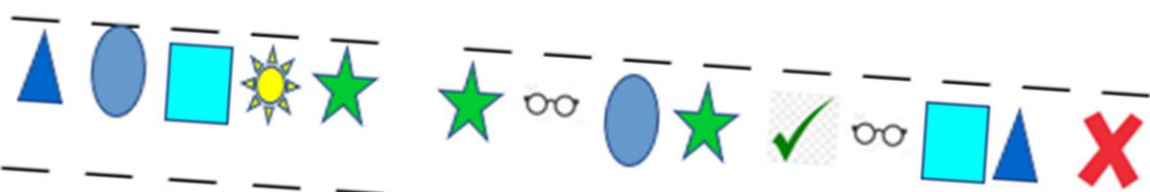


Tutta la regione è ricca **di acque**



Clima e vegetazione:

sono presenti 3 tipi di climi



Legenda:

A	B	C	E	I	L	M	N	O	P	R	S	T	U


Finlandia

S	A	D	C	I	A	O	S	E	H	G	N	I	R	A
B	A	E	M	E	R	L	U	Z	Z	I	E	F	F	E
O	G	L	H	B	L	T	I	X	V	U	S	D	R	L
V	C	F	M	Y	E	R	N	Z	C	B	E	E	A	E
I	K	N	L	O	G	W	I	E	L	Q	D	T	S	T
N	U	I	O	P	N	Q	D	S	K	W	N	N	T	T
I	O	A	I	C	O	I	Z	S	J	E	A	A	A	R
H	E	L	S	I	N	K	I	A	H	R	L	I	G	O
W	Q	A	Z	S	X	D	C	B	G	T	N	G	L	N
L	E	G	N	A	M	E	F	V	G	Y	I	G	I	I
E	R	I	C	R	E	M	M	O	C	U	F	E	A	C
T	R	A	S	P	O	R	T	I	B	I	O	N	T	A
T	E	T	N	A	T	S	E	T	O	R	P	A	E	P
U	Y	L	U	T	E	R	A	N	A	H	N	I	J	L
I	O	P	C	E	L	L	U	L	O	S	A	P	K	M

Trova le parole nascoste:

- Tipi di pesci 3 parole da trovare (blu)
- Silvicoltura 2 parole da trovare (viola)
- Allevamento 2 parole da trovare (verde)
- Industria 2 parole da trovare (celeste)
- Settore terziario 2 parole da trovare (fucsia)
- Capitale 1 parola da trovare (verde acqua)
- Lingua 1 parola da trovare (arancione)
- Religione 2 parole da trovare (giallo)
- Territorio 1 parola da trovare (rosso)
- Coste 2 parole da trovare (rosa)

Danimarca



TROVA LA BANDIERA DELLA DANIMARCA











TROVA LE CITTÀ DELLA DANIMARCA: 2 SONO FALSE

GLADSAXE

V	F
<input type="checkbox"/>	<input type="checkbox"/>

FREDRIKSTAD

<input type="checkbox"/>	<input type="checkbox"/>
--------------------------	--------------------------

ODENSE

<input type="checkbox"/>	<input type="checkbox"/>
--------------------------	--------------------------

GOTEBORG

<input type="checkbox"/>	<input type="checkbox"/>
--------------------------	--------------------------

FREDERIKSBERG

<input type="checkbox"/>	<input type="checkbox"/>
--------------------------	--------------------------

ESBJERG

<input type="checkbox"/>	<input type="checkbox"/>
--------------------------	--------------------------

AALBORG

<input type="checkbox"/>	<input type="checkbox"/>
--------------------------	--------------------------

AARHUS

<input type="checkbox"/>	<input type="checkbox"/>
--------------------------	--------------------------

**COMPLETA LE INFORMAZIONI SULLA
DANIMARCA**

CAPITALE:

<input type="text"/>	O	<input type="text"/>	<input type="text"/>	<input type="text"/>	A	G	<input type="text"/>	E	<input type="text"/>
----------------------	---	----------------------	----------------------	----------------------	---	---	----------------------	---	----------------------

CLIMA:

<input type="text"/>	E	<input type="text"/>	P	<input type="text"/>	R	<input type="text"/>	T	O
----------------------	---	----------------------	---	----------------------	---	----------------------	---	---

È LO STATO PIÙ A SUD
DELLA:

S	<input type="text"/>	<input type="text"/>	N	<input type="text"/>	I	<input type="text"/>	I	A
---	----------------------	----------------------	---	----------------------	---	----------------------	---	---

REGNO UNITO

1) CHI È STATA LA PRIMA REGINA D'INGHILTERRA?

- a) la regina Vittoria
- b) la regina Elisabetta I
- c) la regina Elisabetta II

2) QUALI SONO STATI I PRIMI POPOLI D'INGHILTERRA? COLLEGA IL TERMINE ALL'IMMAGINE CORRISPONDENTE.

a) I Celti



b) I Barbari



c) I Vichinghi



3) QUANDO SI EBBE LA MASSIMA ESPANSIONE COLONIALE?

- a) Sotto il regno della Regina Elisabetta II
- b) Sotto il regno delle popolazioni Celtiche
- c) Sotto il regno della Regina Vittoria

4) COLLEGA I NOMI ALLA REGINA CORRISPONDENTE

a) Elisabetta I



b) Elisabetta II



c) Vittoria




5) QUALI SONO GLI STATI COLONIALI DELL'INGHILTERRA NEL SUO MASSIMO
SPLENDORE COLONIALE? COLORA



REGNO UNITO

Inserisci i monumenti corretti nella posizione giusta. ATTENZIONE CI SONO 2 INTRUSI.



A



B



C



D



E



F



G



H



I

COMPLETA IL REBUS TROVANDO GLI ALIMENTI PRINCIPALI
UTILIZZATI NEL REGNO UNITO.



_____ + _____ = _____



SHEIN



_____ + _____ + RO + _____ + S = _____



_____ + U + _____

+ _____ = _____









_____ + D + _____ + _____ = _____



_____ + _____ + _____ = _____



_____ + _____ = _____

6							
5							
4							
3							
2							
1							
	A	B	C	D	E	F	G

INDIVIDUA I SIMBOLI DELL'IRLANDA E SCRIVI LE COORDINATE

- 1 (....;....)
- 2 (....;....)
- 3 (....;....)
- 4 (....;....)
- 5 (....;....)

QUALI SONO GLI STATI E LE CAPITALI DEL BENELUX?

P	L	B	M	P	B	M	V	H	S	O	A
A	J	U	C	A	T	S	I	V	L	I	Y
E	N	J	S	E	U	B	C	A	S	G	J
S	J	F	A	S	E	I	A	S	I	L	B
I	N	G	K	I	E	C	H	A	N	E	V
B	O	J	L	B	H	M	E	R	O	B	X
A	L	U	S	S	E	M	B	U	R	G	O
S	B	R	U	O	P	L	L	U	P	E	G
S	I	E	Z	S	C	R	E	G	R	M	A
I	R	U	S	E	L	L	E	X	U	R	B
G	E	M	A	D	R	E	T	S	M	A	O

QUALI SONO LE BANDIERE DEI 3 STATI DEL BENELUX?




LE ATTIVITÀ ECONOMICHE PRINCIPALI DELLA FRANCIA

Le grandi pianure e il clima temperato e umido favoriscono **l'agricoltura**. La Francia è al primo posto in Europa per la produzione di cereali e barbabietola, al secondo posto per la produzione dell'uva (poiché il territorio è molto pianeggiante).



Ha molta importanza anche **l'allevamento** soprattutto di bovini da carne e da latte, di suini e volatili.

La pesca è molto praticata soprattutto di sardine, merluzzi e crostacei. È molto diffusa l'ostricoltura.




I giacimenti più importanti sono quelli di uranio e bauxite

L'industria è sviluppata nei settori meccanico-automobilistico, aerospaziale, chimico-farmaceutico e degli articoli di lusso

Il settore terziario produce la maggior parte della ricchezza. Le attività principali sono quelle legate ai settori delle telecomunicazioni. Il commercio e il turismo contano su una rete di trasporti efficienti e all'avanguardia


Collega le immagini al settore corrispondente



a) SETTORE PRIMARIO

b) SETTORE SECONDARIO

c) SETTORE TERZIARIO



Collega i monumenti francesi



Collega i piatti tipici francesi



La Polonia

Collega l'alternativa corretta all'immagine corrispondente

Religione

Clima

Forma di governo

Territorio

Capitale


Settore terziario

Conseguenze di vicende storiche



AUSTRIA

1) Segna con una x la bandiera dell'Austria



2) Collega la definizione al nome corrispondente

Il fiume

Repubblica federale

Il lago

Vienna

forma di governo
che prevede un
sistema di entità
che conservano un
certo grado di
autonomia

la capitale
dell'Austria

massa d'acqua
continentale raccolta
in un bacino di
dimensioni più o
meno stabili e di
forma riconoscibile.

masse d'acqua perenni
che per l'impulso della
gravità si raccolgono e
scorrono nelle parti
deprese del suolo e
terminano
generalmente nel mare

INDOVINA LO STATO

1 La capitale è formata da 2 parole: la prima è la seconda è Pest. Qual è la prima parola?

2 L'industria è chimica, tessile e

3 Il più importante è il Balaton

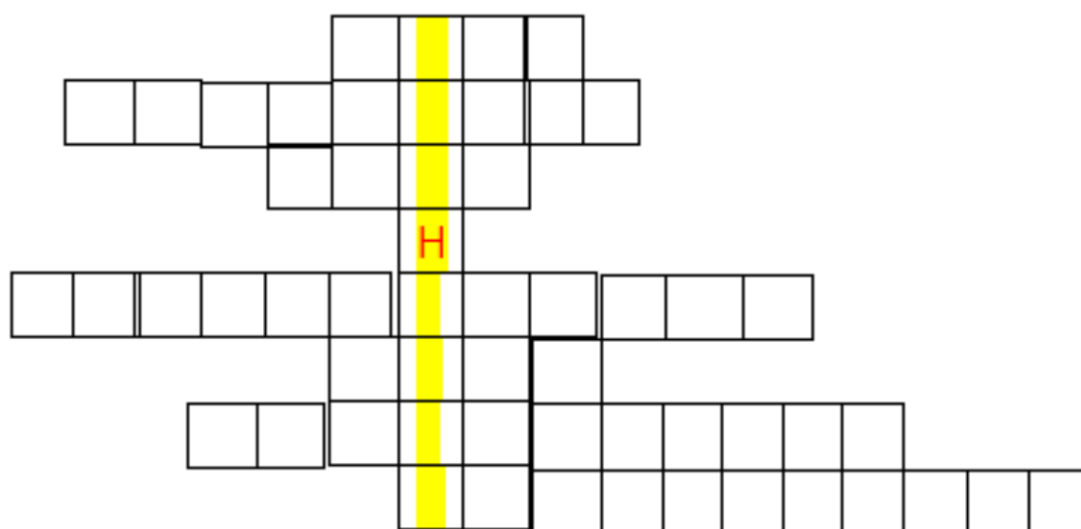
4 Il clima è

5 Aumentano le protette

6 È praticata nelle pianure più fertili


7 È di equini e suini

LO STATO TROVATO E'!



GERMANIA

RISOLVI IL LABIRINTO SEGUENDO I MONUMENTI DELLA GERMANIA. ATTENZIONE A NON CONFONDERSI!



CONGRATULAZIONI SEI ARRIVATO ALLA FINE!

LE ATTIVITA' ECONOMICHE DELLA SVIZZERA

Il territorio montuoso e il clima non favoriscono l'**agricoltura**, nelle aree limitate si coltivano **cereali, patate e foraggi**.

Più redditizio è l'**allevamento** specialmente di bovini da latte, con il quale si producono ottimi **formaggi, burro e cioccolato**.




In montagna si ha un'abbondante produzione di **energia idroelettrica**, ma il sottosuolo è povero di materie prime perciò l'industria è fondata sullo **sviluppo tecnologico**: prevale la meccanica di precisione (strumenti ottici e orologi), industria farmaceutica e gli alimentari (Nestlé).

La ricchezza maggiore proviene dal settore **terziario**, in particolare dalle attività bancarie e finanziarie che attirano oltre un terzo del denaro depositato nel mondo coperto dal **segreto bancario** e **quasi esente da tasse**.



Come si vive in Svizzera?

La popolazione vive nelle città di fondovalle, collegate fra loro da una rete efficiente di autostrade e ferrovie. Sono molti i **lavoratori stranieri** e i **frontalieri**, cioè persone che abitano negli stati confinanti e ogni giorno si recano a lavorare nelle città svizzere. La capitale è **Berna** ma le città più popolate sono Zurigo, Ginevra e Basilea.



Si parlano **quattro lingue nazionali**: francese, tedesco, italiano e romancio.

Scegli l'alternativa corretta

Si coltivano in Svizzera

patate / peperoni

energia più sfruttata

siderurgica / idroelettrica

settore più sviluppato della Svizzera

primario / terziario

capitale della Svizzera

Londra / Berna

LIECHTENSTEIN

Collocato sulle Alpi fra Svizzera e Austria, questo piccolo stato con capitale Vaduz vive principalmente di attività finanziarie



Cerchia solo le città della svizzera

Zurigo

Londra

Lione

Roma

Milano

Manchester

Losanna

Oslo

Lille

Matera

Basilea

Praga

Lucerna

Vienna

Lugano


Bellinzona

Berlino

Dublino

Portogallo

SEGUENDO LA LEGENDA INSERISCI LE LETTERE
AL POSTO DEI SIMBOLI



COMPLETA CON LE SEGUENTI PAROLE

VECCHIO, LUNGO, VINI
E LIQUORI, LINGUA

Il Portogallo è lo stato più d' Europa
Il Portogallo possiede il ponte più
Due bevande tipiche di questo paese sono
Il portoghese è la del Portogallo

RUSSIA



La Russia è una repubblica presidenziale federale.

Territorio: i rilievi più elevati si trovano nel Caucaso, nei monti Altaj e nella penisola Camcatka, altri rilievi sono Valdaj e il Rialto Centrale Russo.

Il territorio è ondulato ed è percorso da lunghi fiumi navigabili. I laghi principali sono Ladoga e Onega.

Il clima è divisa in tre fasce:

- Nella fascia settentrionale prevale un

clima subpolare

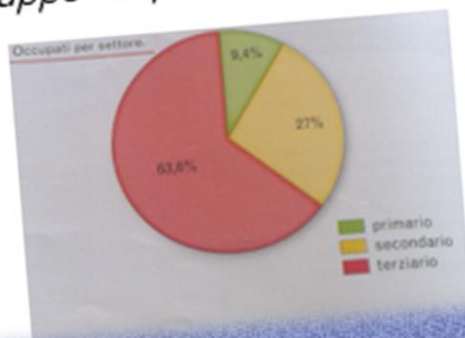
- Nella fascia centrale prevale un clima continentale freddo
- Nella fascia meridionale prevale un clima continentale caldo

Attività economiche più importanti

Il settore **secondario** è importante a livello mondiale grazie ai giacimenti di combustibili fossili, è sviluppata l'industria nei settori siderurgico petrolchimico e metallurgico.

Il settore **primario** non è molto sviluppata, l'agricoltura è basata sulla coltivazione di cereali, ortaggi e patate. L'allevamento permette la produzione di burro e di latte

Il settore **terziario** è in forte sviluppo soprattutto per il commercio e le telecomunicazioni



Completa il cruciverba

LA RUSSIA



Verticale

1. Settore più sviluppato della Russia
5. In Russia si coltivano principalmente:
8. Il monte più elevato della Russia

Orizzontale

2. Clima nella fascia settentrionale della Russia
3. Nella fascia meridionale è presente un clima continentale
4. Nel settore terziario è in sviluppo il:
6. La Russia è una Repubblica presidenziale:
7. Secondo monte più alto della Russia:

La Slovenia

1. Quale è la capitale della Slovenia?

- a) Dublino b) Budapest c) Lubiana

2. Dove si trova la Slovenia?

Nell'Europa:

- a) Centrale b) Meridionale
c) Scandinava d) Orientale

3. Qual è la bandiera della Slovenia?



SPAGNA

La Spagna è formata da 17 comunità autonome, appartengono alla Spagna anche Ceuta e Melilla. La Spagna fa parte dell'Unione Europea e adotta l'euro.

Territorio: vasto altopiano, Meseta, sono presenti i Pirenei e i Cambrici, il Sistema Betico. I fiumi principali sono Duero Tago Guadiana. Sono presenti le isole Baleari e le isole Canarie. Le coste possono essere basse e orlate di lagune o frastagliate e incise da profonde insenature.

Il clima:

- a nord è atlantico
- nella Meseta è continentale caldo
- a sud è mediterraneo

L'agricoltura oggi è un settore economico importante, la riforma agraria ha favorito le cooperative e l'UE ha concesso finanziamenti per modernizzare le tecniche di coltivazione. Si coltivano cereali, olive, uva, colture industriali.

La pesca è un settore importante soprattutto nelle acque dell'Atlantico. La regione è ricca di carbone e minerali.

L'industria deve acquistare all'estero gran parte delle materie prime.

La **disoccupazione** è tra i principali problemi

Il settore terziario

Trova le città della Spagna. Con le parole rimaste forma la frase della forma di governo della Spagna.

M	A	D	R	I	D	E'	N
A	V	A	R	R	A	U	N
A	C	E	U	T	A	M	O
M	E	L	I	L	A	B	N
M	A	L	A	G	A	N	A
R	C	E	L	L	O	S	I
L	E	O	N	A	R	C	H
V	I	G	L	I	A	N	A
P	A	M	P	L	O	C	A
I	A	G	A	L	I	C	I
A	C	O	S	A	R	A	G
O	Z	Z	A	S	T	M	E
R	I	D	I	A	L	M	E
R	I	A	T	T	E	R	U
E	L	U	V	I	T	O	R
I	A	Z	I	M	U	R	C
E	A	O	A	L	B	A	C
E	T	E	N	A	R	O	N
D	A	L	T	R	U	N	E

Lo sport in Europa

COMPLETA la tabella rispondendo alle definizioni e tenendo presente che le soluzioni si ottengono aggiungendo una lettera alla parola di partenza. Riporta nella colonna le lettere che hai aggiunto. Così scoprirai lo sport più praticato e seguito in Europa.

1: alce

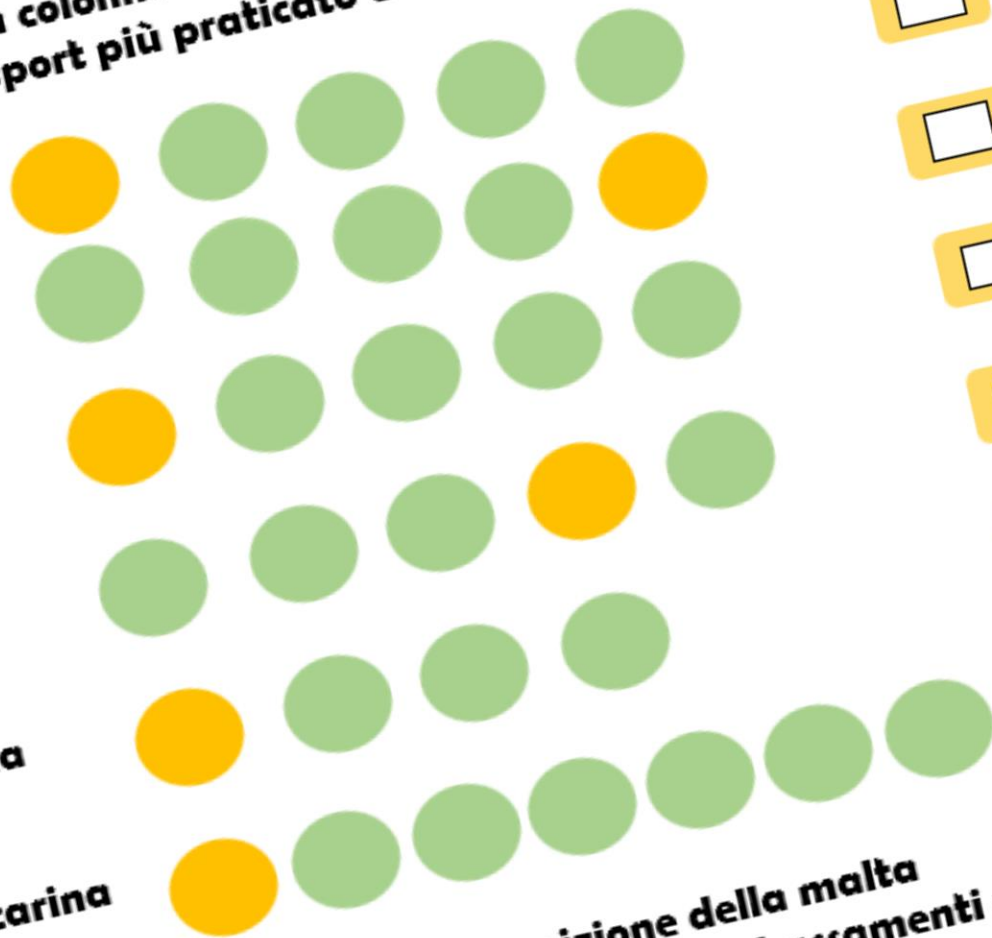
2: mare

3: etti

4: lisa

5: dea

6: carina



- 1-legante usato per la composizione della malta
- 2-moto ondosa che causa aumenti e abbassamenti del livello del mare
- 3-mobile su cui si dorme
- 4-lo scheletro dei pesci
- 5-risultato dell'attività del pensiero
- 6-strumento musicale a fiato

SOLUZIONE DEI GIOCHI

Pagina 4

Pagina 1

Soluzione:

49

E	U	R	O	P	A	B	M	O	G
T	O	C	M	P	C	L	A	E	V
N	S	Q	A	I	S	A	R	U	E
E	U	G	G	S	T	S	E	L	S
N	D	G	R	F	E	G	I	F	Q
I	R	V	C	A	C	C	A	L	P
T	P	E	Q	E	M	E	O	M	D
N	S	E	C	U	A	C	P	L	U
O	I	I	D	R	O	N	S	T	O
C	L	C	A	M	U	D	I	Q	P

Pagina 2

☐ Wolfgang Amadeus Mozart

☐ Antonio Vivaldi

☒ Ludwig Van Beethoven

Trova gli intrusi

Austria, **Andorra**, Belgio, Bulgaria, **Albania**, Cipro, Croazia, Danimarca, Estonia, Finlandia, Francia, Germania, Grecia, **Georgia**, Irlanda, **Islanda**, Italia, Lettonia, **Inghilterra**, Lituania, Lussemburgo, Malta, Paesi Bassi, Polonia, Portogallo, Repubblica Ceca, **Armenia**, Romania, Slovacchia, **Moldova**, Slovenia, Spagna, Svezia e Ungheria

Pagina 3

Parlamento Europeo	Organismo dell'UE che ha il potere di approvare le leggi.
Commissione Europea	Organismo dell'UE che ha potere esecutivo, formata da 27 membri.
Consiglio dell'Unione Europea	Principale organo decisionale formato da ministri degli stati membri competenti in una certa materia.
Banca Centrale Europea	Organismo dell'UE che decide la politica monetaria.
Consiglio Europeo	Formato da capi di Stato o di Governo degli stati membri dell'UE.

O	T	A	T	S	M	L	L	S	G	O	C
O	S	N	K	A	O	D	E	I	I	G	O
D	T	R	O	S	N	M	G	G	U	H	S
D	O	E	V	B	A	L	I	R	D	K	T
I	H	P	I	X	R	S	S	Y	I	E	I
T	U	U	T	G	C	R	L	P	Z	W	T
T	S	B	U	E	H	N	A	E	I	U	U
A	C	B	C	L	I	S	T	N	A	V	Z
T	H	L	E	T	A	H	I	Z	R	J	I
U	I	I	S	F	B	A	V	U	I	E	O
R	R	C	E	W	O	B	O	F	O	C	N
A	C	A	F	E	D	E	R	A	L	E	E

Pagina 5

Soluzioni

n. 1



n. 2

a
c

Pagina 6

Soluzioni

-1d
-2b
-3a
-4a

SOLUZIONI

Norvegia
11
Mare del nord
calcio

1

a) eruzioni vulcaniche b) aurora boreale c) geyser

2 settore terziario 3 Reykjavik 4 protestante

Quali sono gli stati delle regioni Scandinave e Baltiche?

F	X	P	L	R	D	H	I	H	T	D	Y
R	I	T	A	I	N	O	T	S	E	A	V
V	K	N	T	P	B	J	X	W	N	N	U
H	D	A	L	O	S	S	F	F	O	I	D
E	O	A	E	A	O	Z	H	G	R	M	I
W	Q	I	E	I	N	A	W	G	V	A	D
A	A	N	U	N	I	D	O	L	E	R	S
I	U	A	B	P	I	S	I	G	G	C	Y
Z	P	U	B	A	L	R	P	A	I	A	B
E	G	T	N	C	S	E	S	D	A	R	J
V	Y	I	D	E	Q	E	D	A	N	F	S
S	Z	L	E	A	D	N	A	L	S	I	K

Clima e vegetazione :

sono presenti 3 tipi di climi

C	L	I	M	A	S	U	B	P	O	L	A	R	E
C	L	I	M	A	A	T	L	A	N	T	I	C	O
C	L	I	M	A	C	O	N	T	I	N	E	N	T
A	B	C	E	I	L	M	N	O	P	R	S	T	U

S	A	D	C	I	A	O	S	E	H	G	N	I	R	A
B	A	E	M	E	R	L	U	Z	Z	I	E	F	F	E
O	G	L	H	B	L	T	I	X	V	U	S	D	R	L
V	C	F	M	Y	E	R	N	Z	C	B	E	E	A	E
I	K	N	L	O	G	W	I	E	L	Q	D	T	S	T
N	U	I	O	P	N	Q	D	S	K	W	N	R	T	T
I	O	A	I	C	O	I	Z	S	J	E	A	A	A	R
H	E	L	S	I	N	K	I	A	H	R	L	I	G	O
W	Q	A	Z	S	X	D	C	B	G	T	N	G	L	N
L	E	G	N	A	M	E	F	V	G	Y	I	G	I	I
E	R	I	C	R	E	M	M	O	C	U	F	E	A	C
T	R	A	S	P	O	R	T	I	B	I	O	N	T	A
T	E	T	N	A	T	S	E	T	O	R	P	A	E	P
U	Y	L	U	T	E	R	A	N	A	H	N	I	J	L
I	O	P	C	E	L	L	U	L	O	S	A	P	K	M


GLADSAXE	<input checked="" type="checkbox"/> V <input type="checkbox"/> F	CAPITALE DELLA DANIMARCA:
FREDRIKSTAD	<input type="checkbox"/> X NORVEGIA	C O P E N A G H E N
ODENSE	<input checked="" type="checkbox"/> X	CLIMA DELLA DANIMARCA:
GOTEBORG	<input type="checkbox"/> X SVEZIA	T E M P E R A T O
FREDERIKSBERG	<input checked="" type="checkbox"/> X	È LO STATO PIÙ A SUD DELLA:
ESBJERG	<input checked="" type="checkbox"/> X	S C A N D I N A V I A
AALBORG	<input checked="" type="checkbox"/> X	
AARHUS	<input checked="" type="checkbox"/> X	

	POLONIA
	SVIZZERA
	MALTA
	X DANIMARCA
	LETTONIA

- 1)
- a) la regina Vittoria
- b) la regina Elisabetta I
- c) la regina Elisabetta II



- 3)
- a) Sotto il regno della Regina Elisabetta II
- b) Sotto il regno delle popolazioni Celtiche
- c) Sotto il regno della Regina Vittoria





ba + con = bacon

mu + sh + Ro + om + S = mushrooms

sa + U + sa + ge = sausage


san + D + wi + ch = sandwich

eg + g + s = eggs

to + ma + to = tomato

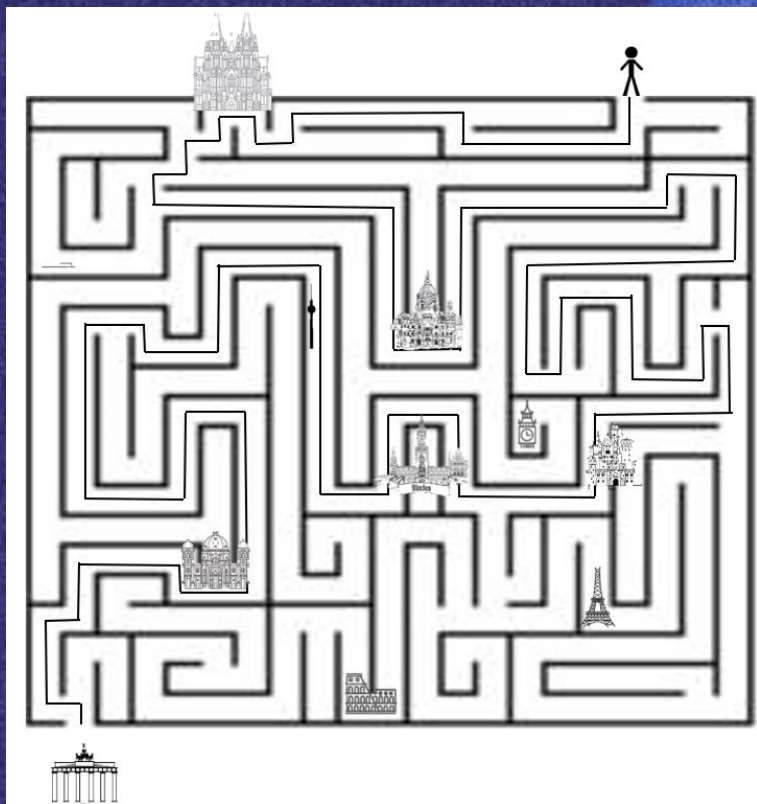
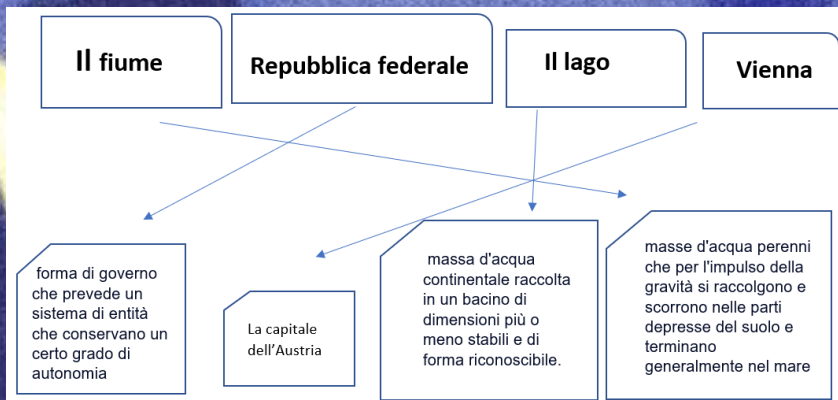

- 6 (B; 2)
- 7 (E; 1)
- 8 (G; 3)
- 9 (F; 5)
- 10 (B; 6)

P	L	B	M	P	B	M	V	H	S	O	A
A	J	U	C	A	T	S	I	V	L	I	Y
E	N	J	S	E	U	B	C	A	S	G	J
S	J	F	A	S	E	I	A	S	I	L	B
I	N	G	K	I	E	C	H	A	N	E	V
B	O	J	L	B	H	M	E	R	O	B	X
A	L	U	S	S	E	M	B	U	R	G	O
S	B	R	U	O	P	L	L	U	P	E	G
S	I	E	Z	S	C	R	E	G	R	M	A
I	S	E	L	L	E	X	U	R	B	G	G
G	E	M	A	D	R	E	T	S	M	A	O



Collega l'alternativa corretta all'immagine corrispondente

Religione	→	
Clima	→	
Forma di governo	→	
Territorio	→	
Capitale	→	
Settore terziario	→	
Conseguenze di vicende storiche	→	



Pagina 22

Zurigo	Londra	Roma	Milano
Lione	Oslo	Lille	
Manchester	Losanna	Basilea	Praga
Matera	Lugano	Bellinzona	
Lucerna 6/78	Vienna	Berlino	Dublino

Si coltivano in Svizzera patate / peperoni

energia più sfruttata siderurgica / idroelettrica

settore più sviluppato della Svizzera primario / terziario

capitale della Svizzera Londra / Berna

P O R T O G H E S E

Il Portogallo è lo stato più **vecchio d' Europa**

Il Portogallo possiede il ponte più **lungo**

Due bevande tipiche di questo paese sono **vini e liquori**

Il portoghese è la **lingua del Portogallo**

Pagina 24

soluzioni

1 secondario	5 cereali
2 subpolare	6 federale
3 caldo	7 Valdaj
4 commercio	8 Altaj

1. Quale è la capitale della Slovenia?

- a) Dublino b) Budapest ~~c) Lubiana~~

2. Dove si trova la Slovenia?

Nell' Europa:

- a) Centrale ~~b) Meridionale~~
c) Scandinava d) Orientale


M	A	D	R	I	D	E'	N
A	V	A	R	R	A	U	N
A	C	E	U	T	A	M	O
M	E	L	I	L	L	A	N
M	A	L	A	G	A	B	A
R	C	E	L	L	O	N	A
L	E	O	N	A	R	S	I
V	I	G	L	I	A	C	H
P	A	M	P	L	O	N	A
I	A	G	A	L	I	C	I
A	C	O	S	A	R	A	G
O	Z	Z	A	S	T	M	E
R	I	D	I	A	L	M	E
R	I	A	T	T	E	R	U
E	L	U	V	I	T	O	R
I	A	Z	I	M	U	R	C
I	A	O	A	L	B	A	C
E	T	E	N	A	R	O	N
D	A	L	T	R	U	N	E

Lo sport in Europa

COMPLETA la tabella rispondendo alle definizioni e tenendo presente che le soluzioni si ottengono aggiungendo una lettera alla parola di partenza. Riporta nella colonna le lettere che hai aggiunto. Così scoprirai lo sport più praticato e seguito in Europa.

1: alce	C	A	L	C	E	C		
2: mare	M	A	R	E	A	A		
3: etti	L	E	T	T	I	L		
4: lisa	L	I	S	C	A	C		
5: dea	I	D	E	A		I		
6: carina	O	C	A	R	I	N	A	O

- 1-legante usato per la composizione della malta **CALCE**
 2-moto ondoso che causa aumenti e abbassamenti del livello del mare **MAREA**
 3-mobilità su cui si dorme **LETTI**
 4-lo scheletro dei pesci **LISCA**
 5-risultato dell'attività del pensiero **IDEA**
 6-strumento musicale a fiato **OCARINA**



La nostra scuola, in un laboratorio interdisciplinare di educazione civica, ha voluto creare un album che, attraverso il gioco, insegnasse l'intercultura come processo di apprendimento che porta a conoscere altre culture e a instaurare nei loro confronti atteggiamenti di disponibilità, di apertura, di dialogo. L'Europa è il luogo della diversità: etnie diverse, differenti realtà socio-economiche si incontrano e sono invitate a dialogare, a guardare alla diversità come ricchezza e non solo come un problema, eliminando così ogni frontiera. Questo laboratorio, per noi, è stato una risorsa, un arricchimento "in vista di una convivenza basata sulla cooperazione, lo scambio, l'accettazione produttiva delle diversità come valori ed opportunità di crescita democratica". L'idea è nata dalla considerazione che l'apprendimento è significativo soprattutto se realizzato attraverso il gioco, quindi abbiamo pensato a quale potesse essere il miglior modo per apprendere i caratteri dell'Unione Europea e degli Stati che la costituiscono, i principi e le finalità che sono stati alla base di questa organizzazione che ha lo scopo di attuare politiche comuni tra gli Stati aderenti. Abbiamo deciso di realizzare un *"Album dell'Unione Europea"* attraverso la ricerca di informazioni, curiosità, stili di vita, immagini delle varie nazioni utilizzati per proporre quiz, rebus, giochi di varie tipologie; in questo modo abbiamo utilizzato diversi programmi di scrittura e diverse piattaforme e questo ci ha permesso di acquisire competenze non solo disciplinari e di convivenza civile, ma anche digitali e grafiche.

*Istituto Comprensivo “Falcone e Borsellino
Teramo 5*



Link: https://drive.google.com/file/d/1nh2pSGjFMH_O5IglthW3wMFLojVlvTro/view?usp=sharing

**51° Concorso Nazionale EIP “Cittadinanza e
diritti umani: partecipazione, legalità,
intercultura, sicurezza, sport”**

Premio Nazionale “EIP” Marisa Romano

Losi - CISS Centro incontri stampa scuola

Viaggio in Europa

Classe 2c Basciano

a.s. 2022-23